



## MATEMÁTICA 3° BÁSICO

### SOLUCIONARIO GUÍA DE APRENDIZAJE REMOTO N°4

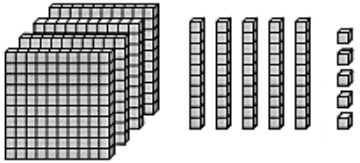
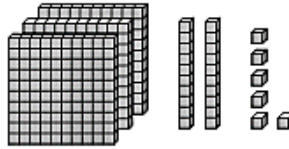
#### I.- Instrucciones:

1. A continuación se incluyen las respuestas correctas de la guía N°4
2. Revisa el trabajo que has realizado para saber cómo vas en tu proceso de aprendizaje.
3. No debes imprimir este solucionario, sólo lee y compara con tus respuestas.
3. Si tienes dudas puedes escribirme a mi correo [prof.teresacontreras@gmail.com](mailto:prof.teresacontreras@gmail.com)

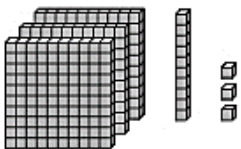
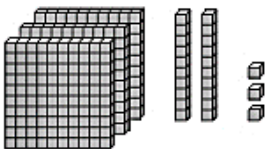
#### II.-SOLUCIONES:

- 1.- Escribe el número en forma habitual. Luego, compara. Escribe  $>$  o  $<$ .

a)

		
<u>455</u>	$>$	<u>326</u>

b)

		
<u>313</u>	$<$	<u>323</u>

2.- Compara. Escribe  $>$ ,  $<$  o  $=$ .

- a)  $157 < 214$       b)  $261 < 278$       c)  $119 > 116$   
d)  $300 > 298$       e)  $505 < 550$       f)  $361 < 378$   
g)  $419 < 516$       h)  $600 > 598$       i)  $541 > 514$   
j)  $295 = 295$       k)  $403 < 490$       l)  $610 > 160$

Escribe los números que se ubican antes, después y entre.

3.- Escribe el número que se ubica **después**.

- a) 235,       b) 189,       c) 300,

5.- Escribe el número que se ubica **antes**.

- a) , 230      b) , 305      c) , 237

6.- Escribe el número que se ubica **entre** los otros dos.

- a) 175, , 177      b) 219, , 221      c) 197, , 199

7.- Encierra con una línea los números.

a) ¿Qué números se ubican **después** de 297?

213

b) ¿Qué números se ubican **antes** de 310?

311

8.- Ordena los números de **menor a mayor**.

a)

300	301	302	303	304	305	306	307	308	309
310	311	312	313	314	315	316	317	318	319

313 está justo antes que 314.  está inmediatamente después que 304.

está entre 303 y 305.

b)

250	251	252	253	254	255	256	257	258	259
260	261	262	263	264	265	266	267	268	269

está justo antes que 265.  está inmediatamente después que 258.

está entre 252 y 254.

9.- Ordena los números de **mayor a menor**.

>  >  >

10.- Ordena los números de **menor a mayor**.

a)

b)

c) 273, 215, 137, 121

11.- Ordena los números de **mayor a menor**.

- a)
- b)
- c) 131, 182, 119, 188

12.- Pinta los rectángulos que tienen los números menores que 360, luego ordénalos de **mayor a menor**.

13.- Calcula mentalmente.

- a)  $50 + 19 =$
- b)  $35 + 40 =$
- c)  $37 + 21 =$
- d)  $17 + 52 =$
- e)  $25 + 57 =$
- f)  $84 + 11 =$

14.- Elige la alternativa correcta.

- a)  $36 + 10 =$   
 Ⓐ 47      Ⓑ 46      Ⓒ 40      Ⓓ 37
- b)  $46 + 32 =$   
 Ⓐ 68      Ⓑ 70      Ⓒ 74      Ⓓ 78
- c)  $38 + 9 =$   
 Ⓐ 47      Ⓑ 41      Ⓒ 31      Ⓓ 37